

1. SINIF TEMEL DERSLER ÇALIŞMA KAĞIDI

TÜRKÇE



Cansu'nun en sevdiği şey hayal kurmaktı. En büyük hayali kuşlar gibi özgürce uçmaktı. Bir gün babası ona Atatürk'ün manevi kızı olan Sabiha Gökçen'i anlatan bir kitap aldı. Cansu çok sevinmişti. Hemen kitabın sayfalarını karıştırmaya başladı.

Okudukça daha da heyecanlanıyordu. Çünkü Sabiha Gökçen'in de en büyük hayali kuş gibi uçmakmış. Cansu'nun hayaliyle ne kadar da benziyordu! Sabiha, hayalini gerçekleştirmiş. Hem de dünyanın ilk kadın savaş uçağı pilotu olmuş.

Kitapta okuduğu şu cümleleri aklına kazımişti:

"Hayallerimiz gerçek olabilir. Yeter ki onları gerçekten isteyelim ve olması için çaba sarf edelim."

Aşağıdaki soruları metne göre cevaplayınız.

1. Cansu'nun en sevdiği şey nedir?

.....

2. Cansu nasıl uçmak istiyordu?

.....

3. Dünya'nın ilk kadın savaş uçağı pilotu kimdir?

.....

4. Cansu ve Sabiha'nın ortak özelliği nedir?

.....



5. Okuduğumuz metnin başlığı ne olabilir?

.....

6. Siz de bir hayalinizi yazınız.

.....

Aşağıda verilen görsellerin altına isimlerini yazınız ve bu kelimeleri cümle içinde kullanınız.

	Cümle
.....
	Cümle
.....

Aşağıdaki metinde parantez () ile belirtilen yerlere uygun noktalama işaretlerini yazınız. Yazım yanlış yapılan kelimelerin altını çiziniz.




benim adım Hülya () Yedi yaşındayım () annemle alışveriş yapmayı çok seviyorum() Perşembe günü annemle pazara gittik() pazardan çilek() erik() muz() ve elma aldık()

ZIT ANLAMLI KELİMELER

Aşağıdaki sözcüklerin zıt anlamlısını yazınız. Bulduğunuz zıt anlamlı sözcüğü kullanarak cümleler yazınız.

büyük X
Cümlem:
yaşlı X
Cümlem:
kötü X
Cümlem:
uzun X
Cümlem:

Aşağıda geometrik şekillerle oluşturulan örüntü kuralını örnekteki gibi belirleyiniz. Örüntülerin kuralını yazınız.

	KURAL:
	KURAL:
	KURAL:

Aşağıdaki örüntülerin kaç farklı nesne ile oluşturulduğunu yazınız.



..... farklı şekil ile oluşmuştur.



..... farklı şekil ile oluşmuştur.



..... farklı şekil ile oluşmuştur.

TABLO

Aşağıdaki hava olayları tablosuna göre noktalı yerlere uygun sayıları yazınız.


Tablo: 1 Haftalık Hava Olayları

Hava olayı	Gün sayısı
	2
	4
	1

1. Güneşli gün sayısı
2. Bulutlu gün sayısı
3. Yağmurlu gün sayısı
4. Yağmur yağmayan gün sayısı
5. Bulutlu ve yağmurlu gün toplamı

ATATÜRK'ÜN HAYATI

Aşağıda Atatürk ile ilgili verilen resimlerin altına isimlerini yazınız.



ATATÜRK'ÜN HAYATI

Aşağıda verilen kavram haritasında boş bırakılan yerleri doldurunuz.

